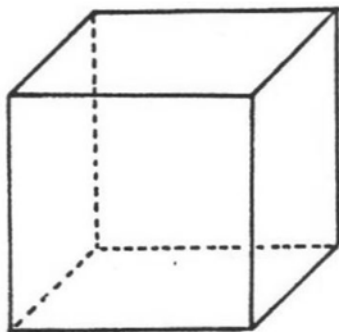
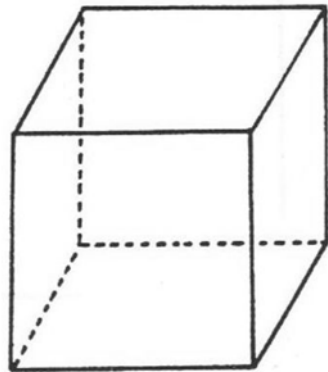
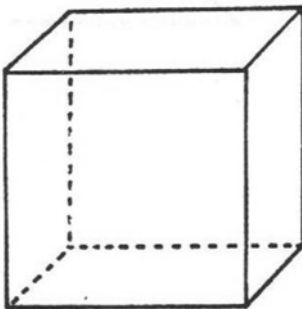
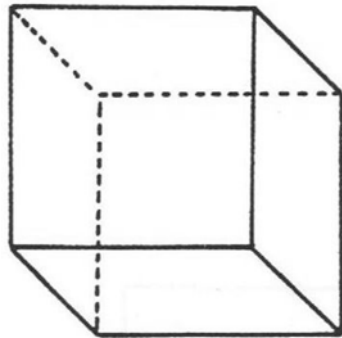
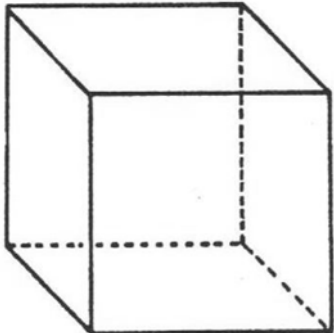
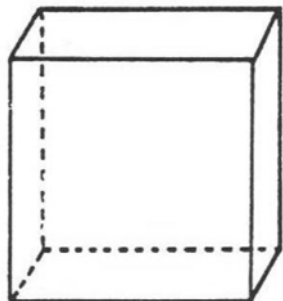


## LA PERSPECTIVE CAVALIERE

Mesurer un angle	☹️	😊	😊	😊😊
------------------	----	---	---	----

Les six dessins montrent le même cube mais les perspectives sont différentes. A chaque fois, l'angle de fuite et/ou le coefficient de réduction ont été changés. Dans chaque cas, mesurer l'angle de fuite et calculer le coefficient de réduction.

Perspective		
Angle de fuite		
Coefficient de réduction		
Perspective		
Angle de fuite		
Coefficient de réduction		
Perspective		
Angle de fuite		
Coefficient de réduction		