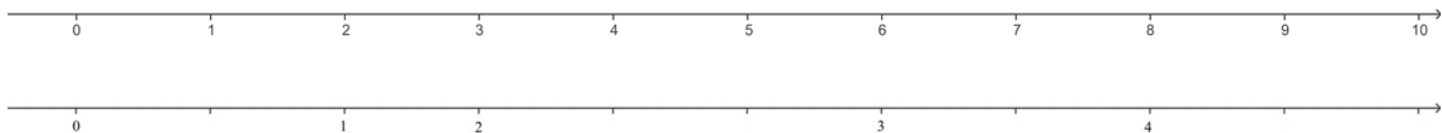


# LA DROITE GRADUEE

Utiliser une demi-droite graduée	<b>REPRESENTER</b>				
----------------------------------	--------------------	--	--	--	--

**EXERCICE 1** Laquelle de ces deux droites n'est pas graduée correctement ?



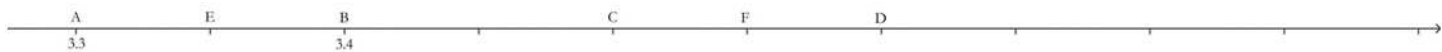
Expliquer pourquoi : .....

**EXERCICE 2**

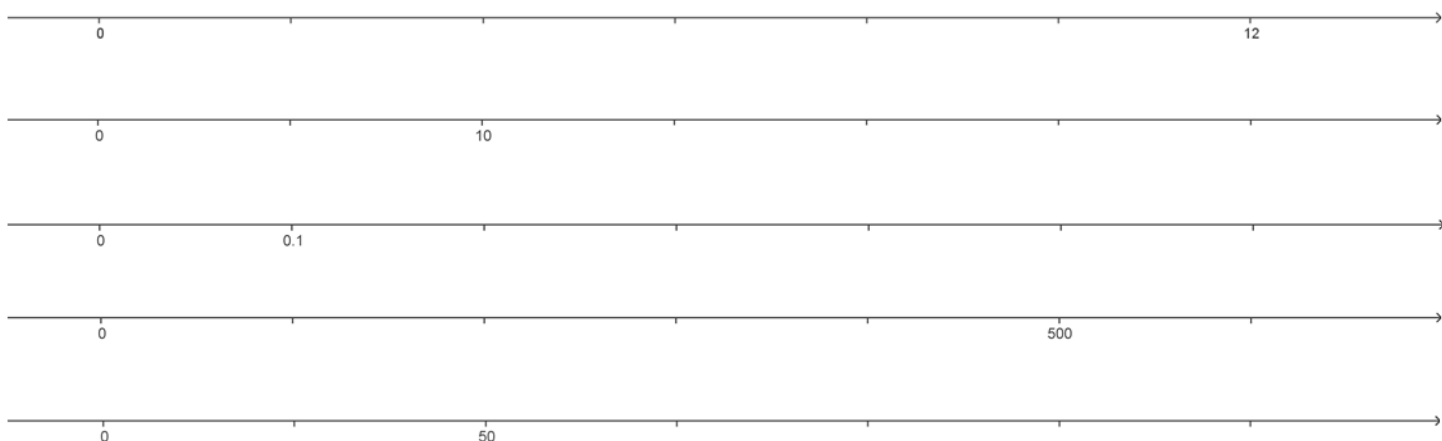
1. Placer l'origine et graduer la droite ci-dessous en centimètres.
2. Placer les points I, J, K, L et M d'abscisses respectives 0, 1, 2, 3 et 4.
3. Placer sur cette droite le point B d'abscisse 3,5, le point C d'abscisse 1,1 et le point D d'abscisse 0,9.



**EXERCICE 3** Lire les abscisses des points E, C, F et D : E(.....), C(.....), F(.....) et D(.....).



**EXERCICE 4** Compléter les graduations.



**EXERCICE 5** Placer sur cette droite le point A d'abscisse 1,5 et le point B d'abscisse 0,25.

