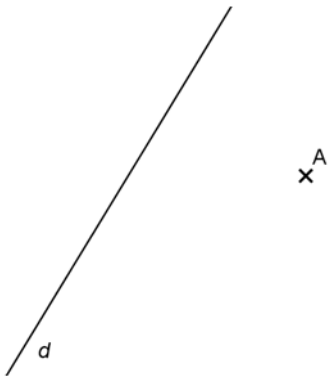


LA CONSTRUCTION DES PARALLELES ET DES PERPENDICULAIRES

Construire une droite perpendiculaire	REPRESENTER	☹️	😐	😊	😊😊
Construire une droite parallèle	REPRESENTER	☹️	😐	😊	😊😊

EXERCICE 1

Construire la perpendiculaire à d qui passe par A.



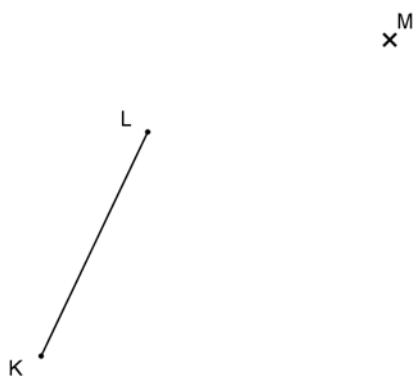
EXERCICE 2

Construire la perpendiculaire à d qui passe par A.



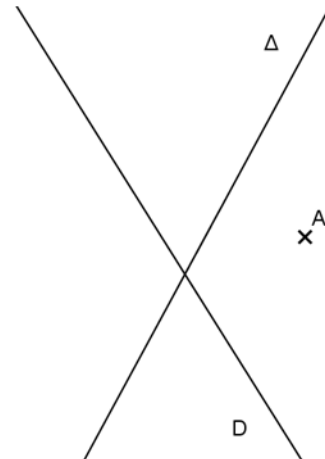
EXERCICE 3

Construire la parallèle à (KL) qui passe par M.



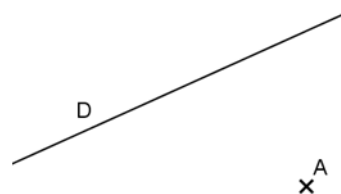
EXERCICE 4

Construire la perpendiculaire à la droite D et la parallèle à la droite Δ passant toutes les deux par A.



EXERCICE 5

Construire la perpendiculaire à la droite D et la parallèle à la droite Δ passant toutes les deux par A.



EXERCICE 6

Construire la parallèle à (KL) qui passe par M.

