

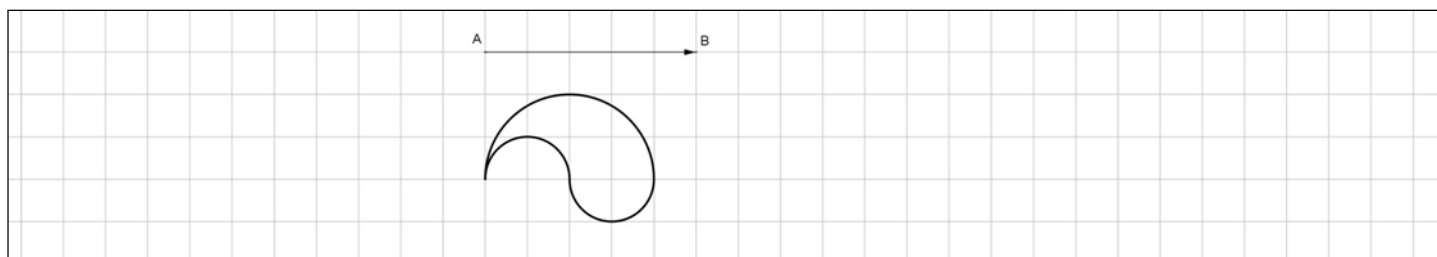
LES FRISES

Construire une frise, un pavage ou une rosace	REPRESENTER	☹️	😐	😊	😄
---	--------------------	----	---	---	---




EXERCICE 1

Construire une frise à partir du motif dessiné en effectuant des translations de vecteur \overrightarrow{AB} ou de vecteur \overrightarrow{BA} .



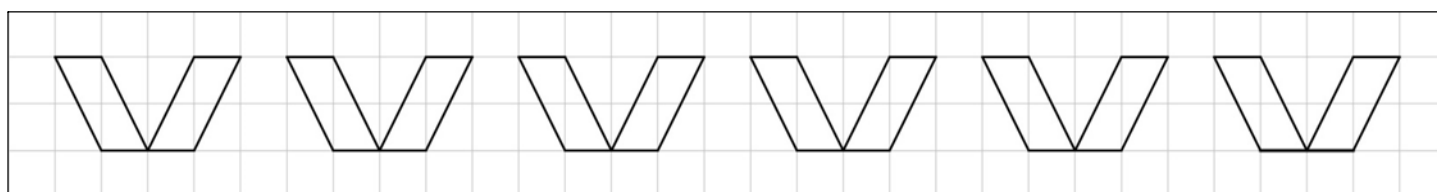
EXERCICE 2

Construire une frise à partir du motif dessiné en effectuant des translations de vecteur \overrightarrow{AB} et de vecteur \overrightarrow{CD} .



EXERCICE 3

1. Dessiner le motif qui permet de construire cette frise par translation.
2. Décrire cette translation en la schématisant par une flèche sur un quadrillage.
3. Dessiner un motif élémentaire qui permet de construire le motif de cette frise par une transformation à préciser.



EXERCICE 4

1. Dessiner le motif qui permet de construire cette frise par translation.
2. Décrire cette translation en la schématisant par une flèche sur un quadrillage.
3. Dessiner un motif élémentaire qui permet de construire le motif de cette frise par une transformation à préciser.

